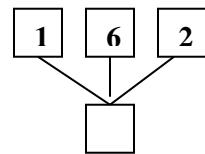
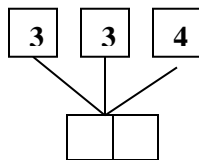
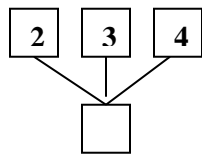
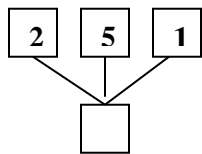
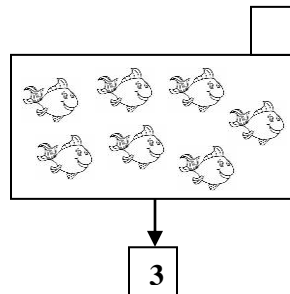
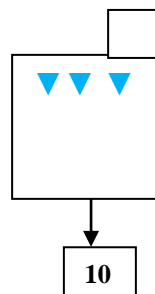
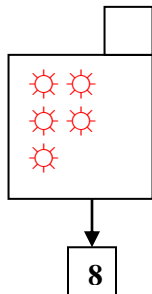
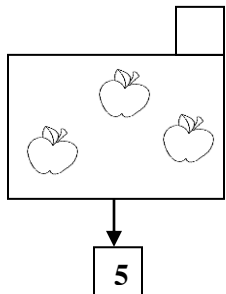




8. Scrie numerele care se compun din numerele date:




9. Completează sau taie din fiecare mulțime elemente, astfel încât să rămână câte sunt scrise în căsuță:



10. Scrie pe carelajul de mai jos:


- numerele de la 0 la 10 în ordine descrescătoare;



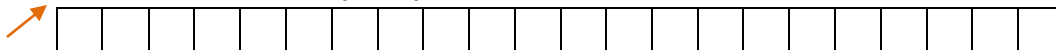
- numerele pare de la 0 la 10 în ordine crescătoare;



- numerele impare de la 0 la 10 în ordine descrescătoare;

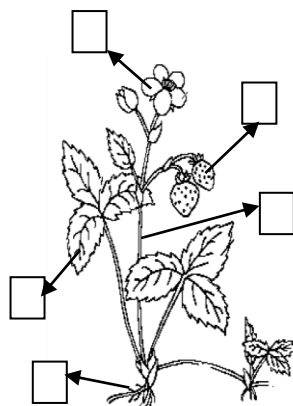


- numerele de la 0 la 10 în ordine crescătoare.



11. Numerotează părțile componente ale plantei:

1 - rădăcină, 2 - tulpină, 3 - frunze, 4 - floare, 5 - fruct.



12. Scrie **NU** sub imaginile în care sunt ilustrate acțiuni de distrugere a mediului înconjurător:

