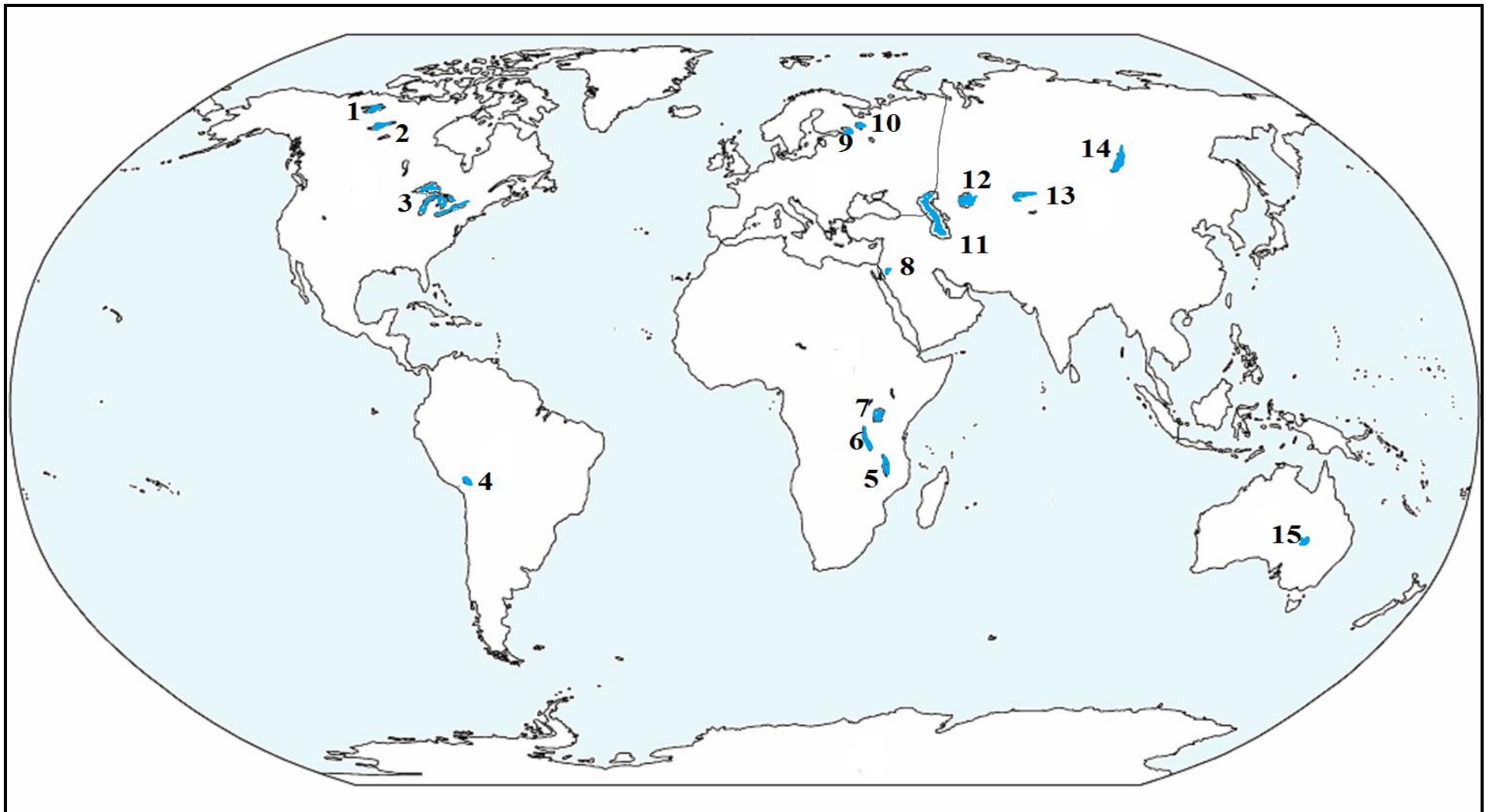


Fișă de lucru- Apele stătătoare ( lacurile) și apele subterane

➤ Identificați cu ajutorul Hărții fizice a lumii utilizate la clasă numele lacurilor notate cu cifre pe harta de mai jos ( 1- 15). Scrieți apoi numele lor în tabelul următor :



1	2	3
4	5	6
7	8	9
10	11	12
13	14	15

◆ **Observă desenul alăturat și precizează:**

1. cum se formează apele subterane.....

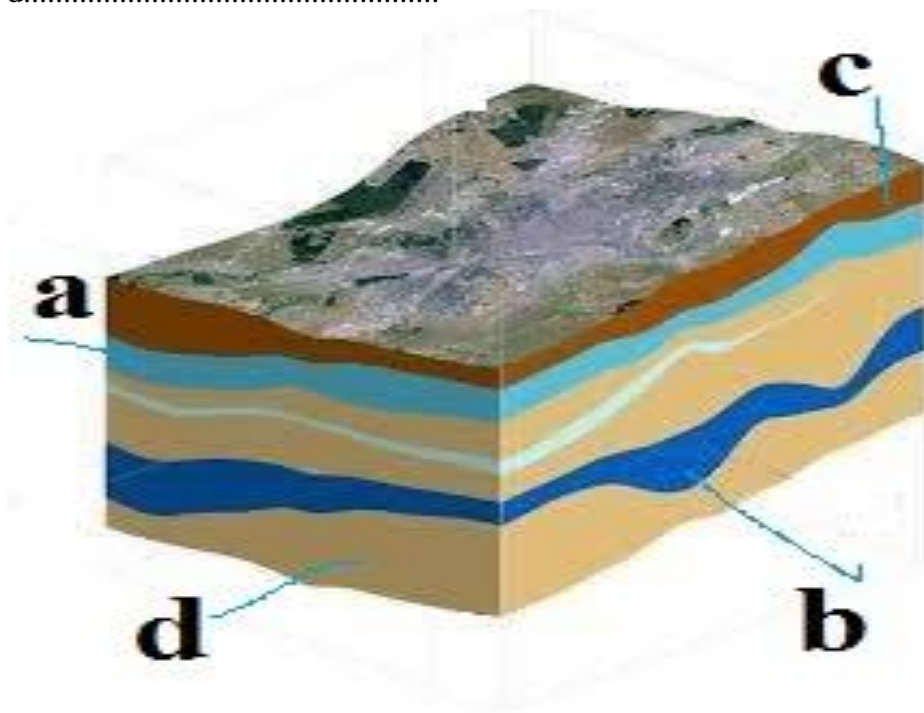
2. asociază literele cu care sunt marcate elementele din desen cu termenii din listă: ape de adâncime, roci permeabile, ape freatic, roci impermeabile:

a.....

b.....

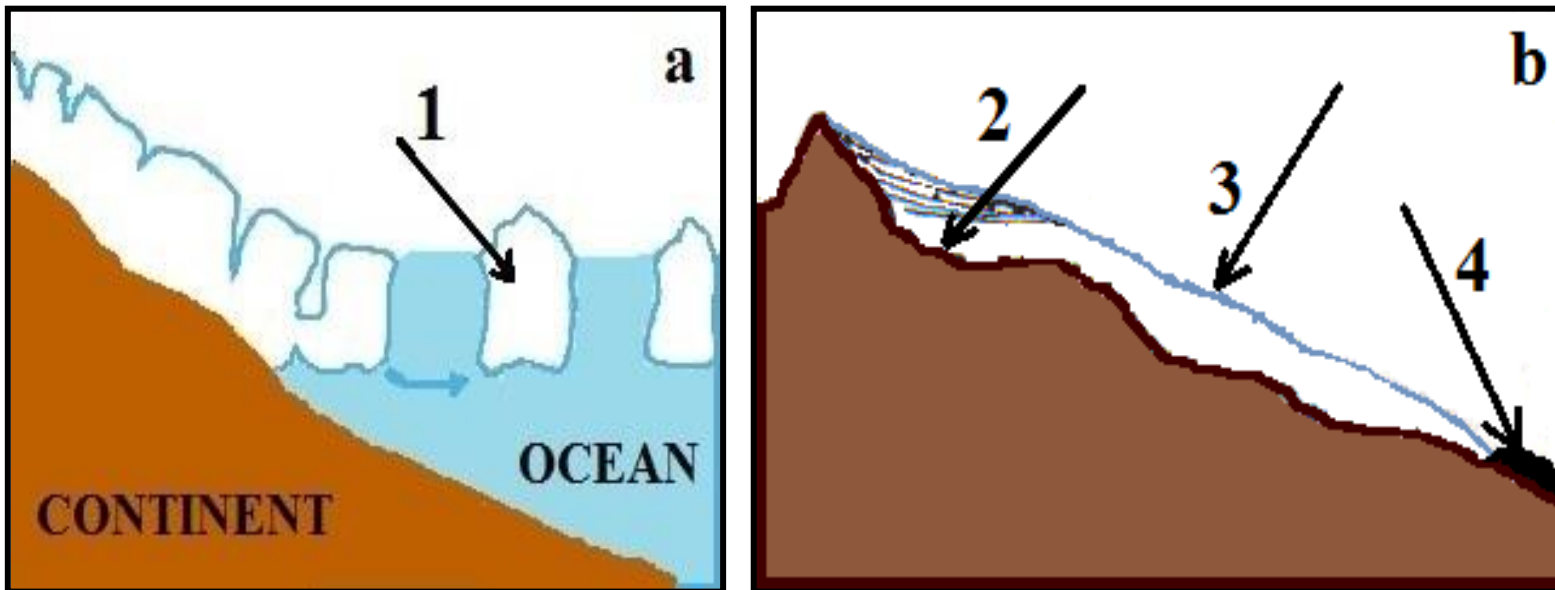
c.....

d.....



### Fișă de lucru- Ghețarii

- Desenele de mai jos notate cu literele a și b, prezintă cele două tipuri de ghețari existente în regiunile continentale. Citește cu atenție fiecare dintre cerințele de mai jos și scrie, răspunsurile corecte:



- precizează tipurile de ghețari redată în cele două desene notate cu literele **a** și **b**;
- identifică elementele specifice acestor ghețari, marcate pe desene cu cifre de la **1** la **4**;
- scrie numele singurului continent unde nu există ghețari;
- precizează două regiuni geografice în care întâlnim tipul de ghețari prezent în desenul notat cu litera **a**.
- menționează denumirea gheții marine, rezultată în urma înghețării complete a apei la suprafață, în regiunile polare.